

Model Paper

Academic Development Unit (ADU)

Our Passion Quality Assurance in Education

Class: 2

Roll No. _____	Signature of Supervisor _____
GENDER Please tick <input checked="" type="checkbox"/> one Male <input type="checkbox"/> Female <input type="checkbox"/>	Total Time: 2 Hours Total Marks: 100

	Q1	Q2	Q3	Q4	Q5	Q6	Q7	Q8	Q9	Q10	Total Marks:	Obtained Marks:
Mathematic											25	
English	Q1	Q2	Q3	Q4	Q5	Q6	Q7	Q8			25	
Urdu	Q1	Q2	Q3	Q4	Q5	Q6	Q7				25	
G. Knowledge	Q1	Q2	Q3	Q4	Q5						25	
Total Marks:											100	

8- کاٹ کر یا کسی بھی طریقہ سے منا کر لکھے گئے جوابات غلط تصور ہوں گے۔

9- مقررہ وقت کے علاوہ کوئی اضافی ٹائم نہیں دیا جائے گا۔

10- نقل سے گریز کریں ورنہ آپ کا پرچہ کینسل کر دیا جائے گا۔

11- موبائل فون کا استعمال منع ہے۔

12- کیلکولیٹر استعمال کرنے کی اجازت نہیں ہے۔

13- پرچہ جلد حل کرنے کی صورت میں اطمینان سے بیٹھیں اور مقررہ

وقت کے ختم ہونے کا انتظار کریں۔

14- پیپر میں کسی بھی جگہ مثلاً خط، کمانی، درخواست یا مضمون میں اپنے

سکول، شہر، گاؤں کا نام لکھنا سختی سے منع ہے۔ ورنہ پیپر کینسل کر دیا

جائے گا۔

ضروری ہدایات

1- حاضری شیٹ سے دیکھ کر رول نمبر تحریر کریں۔

2- نام اور ولدیت لکھنے کی ضرورت نہیں ہے۔

3- طلباء (Male) والے اور طالبات (Female) والے ڈبے پر نشان لگائیں۔

4- ہر سوال لازمی ہے اور تمام مضامین کے یکساں نمبر ہیں۔

5- سوال حل کرنے سے پہلے دی گئی ہدایات غور سے پڑھ لیں۔

6- امتحانی مرکز میں طلباء و طالبات کے پاس کلپ بورڈ اور پین کے علاوہ کچھ اور

نہیں ہونا چاہیے۔ تمام سوالات کو حل کرنے اور روف حل کرنے کے لیے جگہ پرچہ

میں موجود ہے لہذا کسی قسم کا اضافی صفحہ لانے کی ضرورت نہیں ہے۔

7- کچی پینسل کا استعمال ہرگز نہ کریں۔ صرف نیلی یا سیاہ بال پوائن یا، پوائنٹر کا

استعمال کریں۔



PUNJAB
EDUCATION FOUNDATION



نوٹ: تمام مضامین کے پیپر کا 30 فیصد حصہ غیر نصابی (Unseen) مواد پر مشتمل ہو سکتا ہے جس کا انتخاب پنجاب ٹیکسٹ کی کتاب میں موجود ایس ایل اوز (حاصلاتِ تعلم) اور طے کردہ نصاب میں سے کیا جائے گا۔

Note: 30% of each subjects' paper will comprise of unseen Questions based on SLOs/themes/ lessons mentioned in the given syllabus and books.

MATHEMATICS

Total Marks: 25

(1× 4=4)

Q.No.1. Write tens and ones for the given numbers.

سوال نمبر 1: ذیل میں دیے گئے اعداد کے لیے دہائیاں اور اکائیاں لکھیں۔

Example مثال	$36 = \underline{30} + \underline{6}$
(i)	$62 = \underline{\quad} + \underline{\quad}$
(ii)	$78 = \underline{\quad} + \underline{\quad}$
(iii)	$25 = \underline{\quad} + \underline{\quad}$
(iv)	$93 = \underline{\quad} + \underline{\quad}$

Q.No.2. Count in 100s and complete the sequence.

(1× 3=3)

سوال نمبر 2: 100، 100، 100 کر کے گنتے ہوئے دی گئی ترتیب مکمل کریں۔

(i)	80, 180, 280, _____, _____
(ii)	400, 500, _____, 700, _____
(iii)	10, 110, _____, _____, 410

Q.No.3. Encircle the bigger number.

(1× 3=3)

سوال نمبر 3: بڑے عدد کے گرد دائرہ لگائیں۔

(i)	98 , 73
(ii)	359 , 467
(iii)	843 , 780

Q.No.4. Add the following numbers.

$(2 \times 2) = 4)$

سوال نمبر 4: ذیل میں دیے گئے اعداد کو جمع کریں۔

<p>(i)</p> <table style="margin-left: auto; margin-right: auto;"> <tr> <td></td> <td style="text-align: center;"><i>H</i></td> <td style="text-align: center;"><i>T</i></td> <td style="text-align: center;"><i>O</i></td> </tr> <tr> <td></td> <td style="text-align: center;">1</td> <td style="text-align: center;">2</td> <td style="text-align: center;">6</td> </tr> <tr> <td style="text-align: right;">+</td> <td></td> <td style="text-align: center;">8</td> <td style="text-align: center;">4</td> </tr> <tr> <td></td> <td colspan="3" style="text-align: center;">_____</td> </tr> </table>		<i>H</i>	<i>T</i>	<i>O</i>		1	2	6	+		8	4		_____			<p>(ii)</p> <table style="margin-left: auto; margin-right: auto;"> <tr> <td></td> <td style="text-align: center;"><i>H</i></td> <td style="text-align: center;"><i>T</i></td> <td style="text-align: center;"><i>O</i></td> </tr> <tr> <td></td> <td style="text-align: center;">4</td> <td style="text-align: center;">5</td> <td style="text-align: center;">9</td> </tr> <tr> <td style="text-align: right;">+</td> <td></td> <td style="text-align: center;">2</td> <td style="text-align: center;">9</td> </tr> <tr> <td></td> <td colspan="3" style="text-align: center;">_____</td> </tr> </table>		<i>H</i>	<i>T</i>	<i>O</i>		4	5	9	+		2	9		_____		
	<i>H</i>	<i>T</i>	<i>O</i>																														
	1	2	6																														
+		8	4																														

	<i>H</i>	<i>T</i>	<i>O</i>																														
	4	5	9																														
+		2	9																														

Q.No.5. Divide the following numbers.

$(2 \times 2 = 4)$


سوال نمبر 5: ذیل میں دیے گئے اعداد کو تقسیم کریں۔

<p>(i)</p> $12 \div 4 = \underline{\hspace{2cm}}$	<p>(ii)</p> $40 \div 10 = \underline{\hspace{2cm}}$
---	---

Q.No.6. Complete the table.

$(1 \times 3 = 3)$

سوال نمبر 6: ٹیبل مکمل کریں۔


Shape شکل	Name نام	Sides اضلاع	Vertices راسوں
			

Q.No.7. Adil has 16 carrots. His brother ate 3 carrots. How many carrots were left with Adil? (1× 2=2)

سوال نمبر 7: عدیل کے پاس 16 گاجر ہیں۔ اس کے بھائی نے 3 گاجر کھالیں۔ عدیل کے پاس کتنی گاجر باقی بچیں؟

Q.No.8. Count the money in box and rite the total amount. (1× 2=2)

سوال نمبر 8: ڈبے میں رقم گنیں اور کل رقم لکھیں۔

	Rs. روپے _____
--	----------------

ENGLISH

Total Marks: 25

Q.No.1. Look at the picture and fill in the missing vowels. (3)

S__nsh__ne



T__bl__



Sc__ss__rs



Q.No.2. Add -s or -es to make these singular nouns Plurals. (3)





(Note: Any word can be included in this question which is based on same rules given in Text book used for Plural making -)

<p>One bench</p>	<p>Three _____</p>
<p>One Banana</p>	<p>Many _____</p>
<p>One Witch</p>	<p>Two _____</p>

Q.No.3. Look at the picture and fill in the blanks with Action words.

(4)

(kick, read, sing, wash)

<p>a) I _____ a song.</p>	
<p>b) I _____ a book.</p>	
<p>c) I _____ the ball.</p>	
<p>d) I _____ my face.</p>	

Q.No.4. Write a word with the similar sound.

(3)

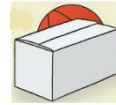
For example: Scare: Stare

<p>Ring</p>	<p>_____</p>
<p>Light</p>	<p>_____</p>
<p>Year</p>	<p>_____</p>

Q.No.5. Look at the pictures. Fill in the blanks with correct preposition: (3)

in on between behind

a) The ball is _____ the box.



b) The cat is _____ the basket.



c) The apple is _____ the books.



Q.No.6. Name the Media Source Salma is using. (2)

Q.No.7. Fill in the blanks with Possessive Pronoun. (3)
(his, her, our, their)

a) This is _____ home.



b) This is Sara. Look at _____ doll.



c) This is Ali. This is _____ bike.



Q.No.8. Recall the lesson from your text book about “National Pride” and write any four words related to it. (4)

(Note: This question can be based on any concept given in Text Book)

- a) _____
- b) _____
- c) _____
- d) _____



SAMPLE

پنجاب ایجوکیشن فاؤنڈیشن
قانونی مشین



اردو

کل نمبر: 25

(2×3=6)

سوال نمبر 1: مندرجہ ذیل سوالات کا مختصر جواب دیں۔

- سوال الف: ہمارے پیارے نبی ﷺ کا کیا نام ہے؟
- سوال ب: سبق 'وطن کی محبت' کے مطابق بڑھیا کی نکت کے پیسے کس نے دیے؟
- سوال ج: نظم 'ایک وقت میں ایک کام' کے مطابق کس وقت کھیل کا نام نہیں لینا چاہیے؟

(1×4=4)

سوال نمبر 2: درج ذیل الفاظ کو جملوں میں استعمال کریں۔

جملہ	الفاظ
	سجانا
	ذہین
	تحفہ
	پریشان

(1×4=4)

سوال نمبر 3: درج ذیل واحد الفاظ کی جمع لکھیں۔

واحد	جمع
درخت	
کرن	
طوطا	
نام	

$(1 \times 4) = 4$

سوال نمبر 4: درج ذیل الفاظ کو ان کے متضاد سے ملائیں۔

متضاد	الفاظ
سونا	دن
دور	مشکل
آسان	جاگنا
رات	قریب

$(1 \times 3) = 3$

سوال نمبر 5: ارکان جوڑ کر لفظ بنائیے۔

	لق + مہ
	ڈب + بے
	ٹک + رے

سوال نمبر 6: (نوٹ) اس حصے میں خط، درخواست اور مضمون کے علاوہ تخلیقی لکھائی میں کوئی بھی سوال پوچھا جاسکتا ہے مثال کے طور پر نیچے دی گئی تصویر دیکھیں اور پاراسم لکھیں۔

$(1 \times 4) = 4$



	-3	-1
GENERAL	-4	-2

KNOWLEDGE

Total Marks: 25

Q.No.1. Mark (✓) on the correct answer.

(1×5=5)

سوال نمبر 1۔ درست جواب کے آگے (✓) کا نشان لگائیے۔

1. What should a person do on making a new thing?			
1۔ کوئی شخص نئی چیز بنائے تو اسے کیا کہنا چاہیے؟			
(a) should thank Allah Almighty	اللہ کا شکر ادا کرنا چاہیے	(b) should laugh	ہنسنا چاہیے
(c) should feel proud	غور کرنا چاہیے	(d) should weep	رونا چاہیے

2. A nice person is the one:			
2۔ اچھا انسان وہ ہے:			
(a) whose clothes are good	جس کے کپڑے اچھے ہوں	(b) who has wealth	جس کے پاس دولت ہو
(c) putting others in trouble	جو دوسروں کو تکلیف	(d) who helps others	جو دوسروں کے کام آئے

3. When did the revelation of the Holy Quran start?			
3۔ قرآن مجید کا نزول کب شروع ہوا؟			
(a) in Muharram	محرم میں	(b) in Rabi-ul-Awal	ربیع الاول میں
(c) in Ramadan-ul-Mubarak	رمضان المبارک میں	(d) in Shawal	شوال میں

4. In which city is the "Charaghan Fair" celebrated?			
4۔ میلہ چراغال کس شہر میں منایا جاتا ہے؟			
(a) Lahore	لاہور	(b) Multan	ملتان
(c) Faisalabad	فیصل آباد	(d) Karachi	کراچی

5. When was the Pakistan resolution passed?

5۔ قرار داد پاکستان کب منظور ہوئی؟

(a) 1910	(b) 1913
(c) 1940	(d) 1947

Q.No.2. Match the column.

(1×5=5)

سوال نمبر 2۔ کالم ملائیں۔

Column (A) کالم (الف)	Column (B) کالم (ب)
Birthday of Hazrat Isa عليه السلام حضرت عیسیٰ علیہ السلام کا یوم پیدائش	Urs عرس
Hazrat Data Ganj Bakhsh رحمۃ اللہ حضرت داتا گنج بخش رحمۃ اللہ	Eid-ul-Ad'ha عید الاضحی
10 th of Zilhaj 10 ذوالحجہ	Christmas کرسمس
1 st of Shawal یکم شوال	Eid Milad-un-Nabi ﷺ عید میلاد النبی ﷺ
12 th of Rabi-ul-Awal 12 ربیع الاول	Eid-ul-Fitr عید الفطر

Q.No.3. Write short answers of the following questions.

(4x2=8)

سوال نمبر 3- مختصر سوالات کے جواب لکھیں۔

(1) What is the actual name of Quaid-e-Azam?

(1) قائد اعظم کا اصل نام کیا ہے؟

(2) Write down the names of any two tools used in the construction of a house.

(2) گھر کی تعمیر میں استعمال ہونے والے دو اوزاروں کے نام لکھیں۔

(3) Why we keep cattle?

(3) ہم مویشی کیوں پالتے ہیں؟


(4) Who fulfils the needs of children at home?

(4) گھر میں بچوں کی ضرورتیں کون پوری کرتا ہے؟

Q.No.4. Recognize and write name the pictures given below.

(1×2) = 2

سوال نمبر 4- تصویروں کو پہچانیں اور ان کے نام لکھیں۔



Q.No.5. Fill in the blanks with given words.

(1×5=5)

سوال نمبر 5- دیئے گئے الفاظ کی مدد سے خالی جگہ پر کریں

(play, courts, diseases, Ramadan, Karachi)

(کھیلنے، عدالتیں، بیماریاں، رمضان، کراچی)

1: Quaid-e-Azam was born on 25th of December 1876 in _____.

1- قائد اعظم 25 دسمبر 1876ء کو _____ میں پیدا ہوئے۔

2: The children _____ together with neighbor children.

2- ہمسائے میں بچے مل جل کر _____ میں۔

3: Muslims fast in _____.

3- مسلمان _____ میں روزے رکھتے ہیں۔

4: Dirty environment spread many _____.

4- گندے ماحول سے کئی _____ پھیلتی ہیں۔

5: The government has established _____ to provide justice to the general public.

5- حکومت نے عوام کو انصاف دلانے کے لیے _____ بنائی ہیں۔