

Model Paper

Academic Development Unit (ADU)

Our Passion Quality Assurance in Education

Class: 3

Roll No. _____	Signature of Supervisor _____
GENDER Please tick <input checked="" type="checkbox"/> one Male <input type="checkbox"/> Female <input type="checkbox"/>	Total Time: 2 Hours Total Marks: 100

	Q1	Q2	Q3	Q4	Q5	Q6	Q7		Total Marks:	Obtained Marks:
Mathematic									25	
English	Q1	Q2	Q3	Q4	Q5	Q6	Q7	Q8	25	
Urdu	Q1	Q2	Q3	Q4	Q5	Q6			25	
G. Knowledge	Q1	Q2	Q3	Q4	Q5				25	
Total Marks:									100	

8- کاٹ کر یا کسی بھی طریقہ سے منا کر لکھے گئے جوابات غلط تصور ہوں گے۔

9- مقررہ وقت کے علاوہ کوئی اضافی ٹائم نہیں دیا جائے گا۔

10- نقل سے گریز کریں ورنہ آپ کا پرچہ کینسل کر دیا جائے گا۔

11- موبائل فون کا استعمال منع ہے۔

12- کیلکولیٹر استعمال کرنے کی اجازت نہیں ہے۔

13- پرچہ جلد حل کرنے کی صورت میں اطمینان سے بیٹھیں اور مقررہ

وقت کے ختم ہونے کا انتظار کریں۔

14- پیپر میں کسی بھی جگہ مثلاً خط، کمانی، درخواست یا مضمون میں اپنے

سکول، شہر، گاؤں کا نام لکھنا سختی سے منع ہے۔ ورنہ پیپر کینسل کر دیا

جائے گا۔

ضروری ہدایات

1- حاضری شیٹ سے دیکھ کر رول نمبر تحریر کریں۔

2- نام اور ولدیت لکھنے کی ضرورت نہیں ہے۔

3- طلباء (Male) والے اور طالبات (Female) والے ڈبے پر نشان لگائیں۔

4- ہر سوال لازمی ہے اور تمام مضامین کے یکساں نمبر ہیں۔

5- سوال حل کرنے سے پہلے دی گئی ہدایات غور سے پڑھ لیں۔

6- امتحانی مرکز میں طلباء و طالبات کے پاس کلپ بورڈ اور پین کے علاوہ کچھ اور

نہیں ہونا چاہیے۔ تمام سوالات کو حل کرنے اور روف حل کرنے کے لیے جگہ پرچہ

میں موجود ہے لہذا کسی قسم کا اضافی صفحہ لانے کی ضرورت نہیں ہے۔

7- کچی پینسل کا استعمال ہرگز نہ کریں۔ صرف نیلی یا سیاہ بال پوائنٹ یا پوائنٹر کا

استعمال کریں۔



PUNJAB
EDUCATION FOUNDATION



نوٹ: تمام مضامین کے پیپر کا 30 فیصد حصہ غیر نصابی (Unseen) مواد پر مشتمل ہو سکتا ہے جس کا انتخاب پنجاب میسٹری کی کتاب میں موجود ایس ایل اوز (حاصلاتِ تعلم) اور طے کردہ نصاب میں سے کیا جائے گا۔

Note: 30% of each subjects' paper will comprise of unseen Questions based on SLOs/themes/ lessons mentioned in the given syllabus and books.

MATHEMATICS

Total Marks: 25

Q.No.1. Write separately hundreds, tens and ones.

(1×3=3)

سوال نمبر 1: اکائیوں، دہائیوں اور سینکڑوں کو علیحدہ کر کے لکھیں۔

491	_____ + _____ + _____
280	_____ + _____ + _____
573	_____ + _____ + _____

Q.No.2. Arrange the numbers in descending order.

(1× 3=3)

سوال نمبر 2: اعداد کو نزولی ترتیب میں لکھیں۔

243, 565, 381		
_____	_____	_____

Q.No.3. Encircle the odd numbers.

(1× 2=2)

سوال نمبر 3: طاق اعداد کے گرد دائرہ لگائیں۔

(i)	48	,	39
(ii)	28	,	13

Q.No.4. There are 49 boys and 25 girls in class 3. How many students are there altogether?

$$(1 \times 2 = 2)$$

سوال نمبر 4: تیسری جماعت میں 49 لڑکے اور 25 لڑکیاں ہیں۔ اس جماعت میں طلبہ کی کل تعداد کتنی ہے؟

--	--

Q.No.5. Solve.

$$(2 \times 4 = 8)$$

سوال نمبر 5: درج ذیل کو حل کریں۔

<p>(i)</p> $\begin{array}{r} 49g \\ + 57g \\ \hline \end{array}$	<p>(ii)</p> $81 \div 9 =$
<p>(iii)</p> $\begin{array}{r} 89L \\ - 67L \\ \hline \end{array}$	<p>(iv)</p> $535 - 45 =$

Q.No.6. Complete the table.

$$(1 \times 3 = 3)$$

سوال نمبر 6: پہاڑا مکمل کیجئے۔

×	1	2	3	4	5
6	6			24	

Q.No.7. Solve.

$$(2 \times 2 = 4)$$




سوال نمبر 7: درج ذیل کو حل کریں۔

(i)	$\frac{5}{9} - \frac{3}{9} =$
(ii)	$\frac{11}{12} + \frac{5}{12} =$

ENGLISH

**Total Marks: 25
(3)**

Q.No.1. Match each word with correct picture.

	bread
	crown
	crow

Q.No.2. Write an adjective for each noun. Choose your adjectives from the box given below. Use each adjective only once. (3)

old young new beautiful

a) _____ man



b) _____ girl



c) _____ book



Q.No.3. Write two rhyming words for each given word. (2)

grip _____

look _____

Q.No.4. Rewrite the sentences and circle all the Nouns and underline all the Pronouns. (3)

Two boys from the village saw her crying.

They asked her name.

Asma was very happy to find her family.

Q.No.5. Fill in the blanks with “is, am, are”. (3)

a) I _____ happy to see my new car.

b) He _____ angry at his sister.

c) You _____ going with your family.

Q.No.6. Read the paragraph and answer the questions.

(4)

Ali likes to read a lot. He read in all of his free time. His friends play video games and do not read a lot. His parents and teachers are very proud of him. They say reading is important because it will help him to learn about the world around him. They also tell him that it is a good habit to read regularly.

- a) **Is reading a good habit?**
- b) **Why reading is important?**

Q.No.7. Write the plural of the following words.

(3)

Singular	Plural
Monkey	
Jersey	
Potato	

(Note: Any word can be included in this question which is based on same rules given in Text book used for Plural making -)

Q.No.8. Answer the following questions.

(4)

- a) Write two things good Human beings do. (2)
- b) How do you thank those people who do your work? (2)

(Note: This question can also include Word/ Sentences, Creative writing or Picture Story/ Picture Description based on the lessons given in Text Book.)

کل نمبر: 25

اردو

- سوال نمبر 1: مندرجہ ذیل سوالوں کے مختصر جواب دیں۔ (6)
- سوال الف : اللہ کی بنائی ہوئی چیزوں میں سے چند کے نام لکھیں؟
- سوال ب:؟ پاندکس کے گردگردش کرتا ہے؟
- سوال ج : بیت الحکمت کا کیا مطلب ہے؟
- سوال نمبر 2: درج ذیل الفاظ کو جملوں میں استعمال کریں۔ (4)

دنيا

ايجاد

استعمال

شوق

سوال نمبر 3: درست لفظ کے گرد دائرہ لگائیں۔ (4)

آدمی	عادی	ادمی
کمبھض	قمبھض	قمبھض
حاکم	حاکم	حاکم
حے	ہے	حے

سوال نمبر 4: مندرجہ ذیل الفاظ کے متضاد لکھیں۔ (4)

الفاظ	متضاد
جلدی	
باہر	
گیلا	
بعد	

سوال نمبر 5: ارکان ملائیں۔ (3)

دے + کھا	
رو + ش + نی	
بچ + مک + تا	

سوال نمبر 6: اپنے سکول کے بارے میں چار جملے لکھیں۔ (4)

GENERAL KNOWLEDGE

Total Marks: 25

Q.No.1. Encircle the correct answer from the following choices.

(5)

درج ذیل میں سے درست جواب کا انتخاب کریں اور اس کے گرد دائرہ لگائیں۔

1. The hen incubates her eggs for ----- days.	
1- مرغی اپنے انڈے ----- دنوں میں سیتی ہے۔	
a) 18	b) 22
c) 21	d) 30

2. In which kind of resources a forest is included?	
2- جنگلات کن وسائل کا حصہ ہیں؟	
a) natural resources	b) human resources
قدرتی وسائل	انسانی وسائل
c) capital resources	d) all of above
سرمایہ کے وسائل	تمام وسائل

3. The sun rises from:	
3- سورج طلوع ہوتا ہے:	
a) South	b) North
جنوب سے	شمال سے
c) West	d) East
مغرب سے	مشرق سے

4. What is obtained from animals?	
4- جانوروں سے کیا حاصل کیا جاتا ہے؟	
a) milk	b) water
دودھ	پانی
c) fruits	d) vegetables
پھل	سبزیوں

5. Where children go for education?

5۔ بچے تعلیم حاصل کرنے کہاں جاتے ہیں؟

a) hospital	ہسپتال	b) school	سکول
c) bank	بینک	d) court	عدالت

Q.No.2. Draw and label the diagram of phases of life cycle of butterfly. (4)

تتلی کے دور حیات کے مراحل کی ڈایا گرام بنائیں اور لیبل کریں۔

Q.No.3. Write short answers of the following questions: (8)

دیئے گئے سوالات کے مختصر جواب لکھیں:

1 What do we get from sun?

1۔ ہمیں سورج سے کیا حاصل ہوتا ہے؟

2 What is meant by incubation?

2۔ انڈے کو سینے سے کیا مراد ہے؟

3 What is the cause of deforestation?

3۔ جنگلات کی کمی کی کیا وجہ ہے؟


4 Which kind of animals are hyena and wolf with respect to eating mode?

4۔ خوراک کے لحاظ سے لگڑ بگڑ اور بھیڑیا کون سے جانور ہیں؟

Q.No.4. Recognize the pictures given below and write down their names:

(3)

نیچے دی گئی تصویروں کو پہچانیں اور ان کے نام لکھیں۔



Q.No.5. Fill in the blanks with given words:

(5)

(Omnivores, sun, honour, coal, humans)

دیئے گئے الفاظ کی مدد سے خالی جگہ پر کریں:

(احترام، سورج، کوئلہ، انسانوں، ہمہ خور)

1 The _____ is the biggest source of energy.

1- توانائی کا سب سے بڑا ذریعہ _____ ہے۔

2 _____ is an example of mineral found in the earth.

2- زمین میں موجود معدنیات کی مثال _____ ہے۔

3 _____ eat both plants and meat.

3- _____ پودوں اور جانوروں کو کھا جاتے ہیں۔

4 We should treat each other with respect and _____.

4- ہمیں ایک دوسرے کے ساتھ عزت اور _____ سے پیش آنا چاہیے۔

5 A person lives in society along with other _____.

5- انسان معاشرے کے اندر اپنے جیسے دوسرے _____ کے ساتھ رہتا ہے۔